

2025

## CHEMISTRY — MDC

Paper : CC-1

(Fundamentals of Chemistry - I)

Full Marks : 75

Candidates are required to give their answers in their own words  
as far as practicable.

প্রাপ্তলিখিত সংখ্যাগুলি পূর্ণমান নির্দেশক।

১, ২, ৩ ও ৪ নং প্রশ্নগুলি বাধ্যতামূলক এবং

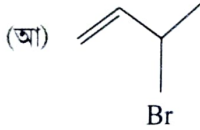
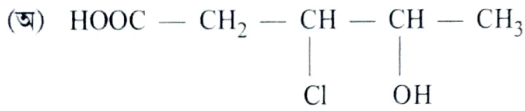
৫ থেকে ১০ নং প্রশ্নগুলির মধ্যে যে-কোনো চারটি-র উত্তর দাও।

১। যে-কোনো দশটি প্রশ্নের উত্তর দাও :

২×১০

(ক) নাইট্রোজেন এবং অক্সিজেন-এর আয়নীয় বিভব-এর তুলনা করো।

(খ) নিম্নলিখিত যৌগগুলির IUPAC নামকরণ করো :



(গ) 'অবস্থাগত অপেক্ষক' এবং 'পথ নির্ভর অপেক্ষক' বলতে কী বোঝো?

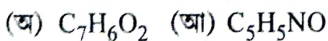
(ঘ) সন্ধিগত মৌলের যে-কোনো দুটি ধর্ম উল্লেখ করো।

(ঙ) জলে টার-বিউটানল ও n-বিউটানলের দ্রাব্যতা তুলনা করো।

(চ) একটি বদ্ধ সিস্টেমের এনথ্যালপির সংজ্ঞা দাও। যদি  $\Delta H$  ঋণাত্মক হয়, তবে বিক্রিয়াটি তাপগ্রাহী না তাপোৎপাদী হবে তা লেখো।

(ছ) d- এবং f- ব্লক মৌলগুলির সাধারণ ইলেকট্রন বিন্যাসগুলি লেখো।

(জ) নীচের দুটি যৌগের double bond equivalent গণনা করো :



(ঝ) একটি বিক্রিয়ার হার ধ্রুবকের একক  $\text{mol}^{-2} \text{lit}^2 \text{s}^{-1}$  হলে, বিক্রিয়াটির ক্রম কত?

(ঞ) Mg-এর যোজ্যতা কক্ষের ইলেকট্রন দু'টির চারটি কোয়ান্টাম সংখ্যা লেখো।

Please Turn Over

(5689)

(ট) নিম্নলিখিত আয়নগুলিকে/যৌগগুলিকে অ্যারোমেটিক, অ্যান্টিঅ্যারোমেটিক অথবা নন-অ্যারোমেটিক শ্রেণিতে বিন্যস্ত করো :



(ঠ) একটি শূন্যক্রম বিক্রিয়ার অর্ধায়ু এবং প্রারম্ভিক গাঢ়ত্বের সম্পর্ক নির্ধারণ করো।

২। সংক্ষিপ্ত টীকা লেখো :

(ক) ডি ব্রগলি প্রকল্প (নিম্নলিখিত বিষয়গুলি অনুসরণ করে) :

(অ) গাণিতিক রূপসহ বিবৃতি

(আ) যথার্থতা।

(২+১)+২

অথবা

(খ) একটি পরমাণুর ইলেকট্রন আসক্তি (নিম্নলিখিত বিষয়গুলি অনুসরণ করে) :

(অ) সংজ্ঞা

(আ) ব্যাখ্যাসহ পর্যায় এবং শ্রেণি বরাবর পরিবর্তন।

১+(২+২)

৩। সংক্ষিপ্ত টীকা লেখো :

(ক) আবেশ প্রভাব (নিম্নলিখিত বিষয়গুলি অনুসরণ করে) :

(অ) মুখ্য বৈশিষ্ট্যসমূহ

(আ) ফর্মিক অ্যাসিড ও অ্যাসেটিক অ্যাসিডের অম্লতার ক্রম।

৩+২

অথবা

(খ) এনানশিওমার এবং ডায়াস্টিরিওমার (নিম্নলিখিত বিষয়গুলি অনুসরণ করে) :

(অ) সংজ্ঞা

(আ) প্রতিটির একটি করে উদাহরণ।

(১½+১½)+২

৪। সংক্ষিপ্ত টীকা লেখো :

(ক) আরহেনিয়াস সমীকরণ (নিম্নলিখিত বিষয়গুলি অনুসরণ করে) :

(অ) ব্যবহৃত প্রতিটি পদের ব্যাখ্যাসহ গাণিতিক সমীকরণ

(আ) সক্রিয়করণ শক্তির মান নির্ণয়।

(১+২)+২



(গ) 25°C উষ্ণতায় N<sub>2</sub>O<sub>5</sub>-এর ভাঙন বিক্রিয়ার অর্ধায়ু 2.05 × 10<sup>4</sup> sec এবং ইহা প্রারম্ভিক গাঢ়ত্বের উপর নির্ভরশীল নয়। N<sub>2</sub>O<sub>5</sub>-এর 80% ভাঙন হতে কত সময় লাগবে নির্ণয় করো। (২+২)+(১½+১½)+৩

- ৯। (ক) (অ) একটি উপযুক্ত উদাহরণসহ স্টিরিওজেনিক কেন্দ্রের (stereogenic centre) সংজ্ঞা দাও।  
 (আ) ব্যাখ্যাসহ অর্থে-ডাইক্লোরোবেঞ্জিন ও প্যারা-ডাইক্লোরোবেঞ্জিনের দিমেরু ভ্রামকের তুলনা করো।
- (খ) 2 মোল পরিমাণ একটি আদর্শ গ্যাসকে রুদ্ধতাপ প্রসারণের মধ্যে দিয়ে নিয়ে যাওয়া হল। এক্ষেত্রে গ্যাসটির তাপমাত্রা 400K থেকে কমে 300K হল। গ্যাসটির দ্বারা কৃতকার্যের পরিমাণ নির্ণয় করো। (γ = 1.667)
- (গ) পরমাণুর কক্ষ ও কক্ষকের মধ্যে পার্থক্য করো। (২+২)+৩+৩

- ১০। (ক) নিম্নলিখিত ধর্মগুলির প্রত্যেকটি সংকীর্ণ অথবা পরিমাণগত এইভাবে চিহ্নিত করো :  
 আভ্যন্তরীণ শক্তি, চাপ, তাপ ধারকত্ব, আপেক্ষিক তাপ।
- (খ) PbO<sub>2</sub> একটি তীব্র জারক — ব্যাখ্যা করো।
- (গ) নীচের দুটি যৌগের প্রত্যেকটিতে 'C<sub>n</sub>' ছাড়া অন্য কোন সিমেন্ট্রি এলিমেন্ট আছে তা উল্লেখ করো :  
 (অ) 2-ক্লোরোপ্রোপেন এবং (আ) মেসো-টারটারিক অ্যাসিড। 8+৩+(১½+১½)

### [ English Version ]

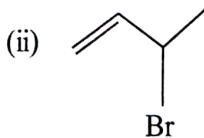
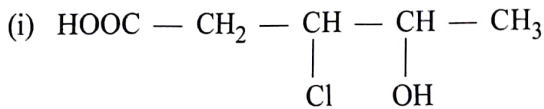
The figures in the margin indicate full marks.

Answer **question nos. 1, 2, 3, 4 (compulsory)** and **any four** from the rest (**question nos. 5 to 10**).

1. Answer **any ten** questions :

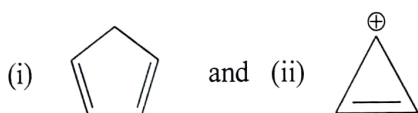
2×10

- (a) Compare ionization potential of nitrogen and oxygen.  
 (b) Write down the IUPAC nomenclature of the following compounds :



- (c) What do you mean by 'state function' and 'path function'?  
 (d) Write down any two properties of a transitional element.  
 (e) Compare the solubility of *ter*-butanol and *n*-butanol in water.

- (f) Define enthalpy of a closed system. State whether the reaction is endothermic or exothermic if  $\Delta H$  of the reaction is negative.
- (g) Write down the general electronic configurations of d- and f- block elements.
- (h) Calculate the double bond equivalents of the following two compounds :
- (i)  $C_7H_6O_2$  (ii)  $C_5H_5NO$
- (i) What will be the order of the reaction if the unit of rate constant is  $\text{mol}^{-2} \text{lit}^2 \text{s}^{-1}$ ?
- (j) Write the four quantum numbers of the two valence electrons of Mg.
- (k) Classify the following ions/molecules as aromatic, antiaromatic or non-aromatic :



- (l) How is the half-life period of a zero order reaction related to the initial concentration of the reactant?

2. Write short note on :

(a) de Broglie Hypothesis using the following points :

- (i) Statement with mathematical expression  
(ii) Significance.

(2+1)+2

**Or**

(b) Electron affinity of an atom using the following points :

- (i) Definition  
(ii) Variation along a period and a group with explanation.

1+(2+2)

3. Write short note on :

(a) Inductive effect using the following points :

- (i) Salient features  
(ii) Acidity order of formic acid and acetic acid.

3+2

**Or**

(b) Enantiomer and diastereomer using the following points :

- (i) Definition  
(ii) One example of each.

(1½+1½)+2

4. Write short note on :

(a) Arrhenius equation using the following points :

- (i) Mathematical expression explaining all the terms involved.  
(ii) Determination of activation energy.

(1+2)+2

**Please Turn Over**

**(5689)**



- (c) At 25°C, the half-life period for the decomposition of  $N_2O_5$  is  $2.05 \times 10^4$  sec and is independent of initial concentration of  $N_2O_5$ . Determine the time required for 80% of  $N_2O_5$  to decompose. (2+2)+(1½+1½)+3
9. (a) (i) Define stereogenic centre with a suitable example.  
(ii) Compare the dipole moments of *ortho*-dichlorobenzene and *para*-dichlorobenzene with explanation.
- (b) 2 moles of an ideal gas undergo an adiabatic reversible expansion. In this process, the temperature of the gas decreases from 400K to 300K. Calculate the work done by the gas. ( $\gamma = 1.667$ ).
- (c) Differentiate between atomic orbit and orbital. (2+2)+3+3
10. (a) Classify the following thermodynamic variables as extensive or intensive :  
internal energy, pressure, heat capacity, specific heat.
- (b)  $PbO_2$  is a strong oxidising agent. — Explain.
- (c) Indicate the symmetry element(s) present (other than  $C_n$ ) in each of the following molecules :  
(i) 2-chloropropane and (ii) *meso*-tartaric acid. 4+3+(1½+1½)
-